

#곱셈 공식, 인수분해 공식

- ① $(a+b)^2 = a^2 + 2ab + b^2$
 $(a-b)^2 = a^2 - 2ab + b^2$
- ② $(a+b)(a-b) = a^2 - b^2$
- ③ $(x+a)(x+b) = x^2 + (a+b)x + ab$
- ④ $(ax+b)(cx+d) = acx^2 + (ad+bc)x + bd$
- ⑤ $(a+b+c)^2 = a^2 + b^2 + c^2 + 2ab + 2bc + 2ca$
- ⑥ $(a+b)^3 = a^3 + 3a^2b + 3ab^2 + b^3$
 $(a-b)^3 = a^3 - 3a^2b + 3ab^2 - b^3$
- ⑦ $(a+b)(a^2 - ab + b^2) = a^3 + b^3$
 $(a-b)(a^2 + ab + b^2) = a^3 - b^3$

#다항식의 나눗셈

$$A = BQ + R$$

#항등식

: x 에 대한 항등식~, 모든 실수 x 에 대하여~, x 에 관계없이~
: 동류항의 계수를 비교하거나, 적당한 수를 대입한다.

#나머지정리, 인수정리

다항식 $P(x)$ 를 일차식 $x - \alpha$ 로 나누었을 때의 나머지 R 라 하면

$$P(x) = (x - \alpha)Q(x) + R$$

- ① $R = P(\alpha)$
- ② $P(\alpha) = 0 \iff P(x)$ 는 $x - \alpha$ 로 나누어떨어진다.

#조립제법

: $3x^3 - 4x^2 + 2x - 2$ 를 $x - 2$ 로 나눈 몫과 나머지?

$$\begin{array}{r|rrrr} 2 & 3 & -4 & 2 & -2 \\ & & & & \\ \hline & & & & \end{array}$$

: $2x - 4$ 로 나눈 몫과 나머지?

#인수정리를 이용한 인수분해

: $a_n x^n + a_{n-1} x^{n-1} + \dots + ax + a_0$ 를 인수분해할 때

$\pm \frac{(a_0 \text{의 약수})}{(a_n \text{의 약수})}$ 들을 우선 대입해본다.

예시 : $12x^3 + 4x^2 - 17x + 6$

20190626

26. x 에 대한 삼차방정식

$$x^3 - x^2 + kx - k = 0$$

이 허근 $3i$ 와 실근 α 를 가질 때, $k + \alpha$ 의 값을 구하시오.
(단, k 는 실수이고, $i = \sqrt{-1}$ 이다.) [4점]

20181118

18. 최고차항의 계수가 1인 두 이차다항식 $f(x), g(x)$ 가 다음 조건을 만족시킨다.

- (가) $f(x) - g(x)$ 를 $x - 2$ 로 나눈 몫과 나머지가 서로 같다.
- (나) $f(x)g(x)$ 는 $x^2 - 1$ 로 나누어떨어진다.

$g(4) = 3$ 일 때, $f(2) + g(2)$ 의 값은? [4점]

#복소수

: 허수단위 $i = \sqrt{-1}$, $i^2 = -1$

: 복소수 $a+bi$ (단, a, b 는 실수)

: $z = a+bi$ 의 켈레복소수 $\bar{z} = \overline{a+bi} = a-bi$

#이차방정식의 근의 공식

: $ax^2 + bx + c = 0$ ($a \neq 0$)의 근은

$$x = \frac{-b \pm \sqrt{b^2 - 4ac}}{2a}$$

: $ax^2 + 2b'x + c = 0$ ($a \neq 0$)의 근은

$$x = \frac{-b' \pm \sqrt{b'^2 - ac}}{a}$$

#판별식

: 계수가 실수인 이차방정식 $ax^2 + bx + c = 0$ 의 판별식

$$D = b^2 - 4ac \text{ 또는}$$

: 계수가 실수인 이차방정식 $ax^2 + 2b'x + c = 0$ 의 판별식

$$D' = b'^2 - ac \text{ 라 하면}$$

- ① D 또는 $D' > 0$: 서로 다른 두 실근 갖는다.
- ② D 또는 $D' = 0$: 중근(서로 같은 두 실근) 갖는다.
- ③ D 또는 $D' < 0$: 서로 다른 두 허근 갖는다.

#근과 계수의 관계

: $ax^2 + bx + c = 0$ ($a \neq 0$)의 두 근 α, β 에 대하여

두 근의 합 $\alpha + \beta = -\frac{b}{a}$, 두 근의 곱 $\alpha\beta = \frac{c}{a}$

20190616

16. 이차방정식 $x^2+x-1=0$ 의 서로 다른 두 근을 α, β 라 하자.
다항식 $P(x)=2x^2-3x$ 에 대하여 $\beta P(\alpha)+\alpha P(\beta)$ 의 값은? [4점]

20190621

21. 두 이차함수

$$f(x)=(x-a)^2-a^2,$$

$$g(x)=-(x-2a)^2+4a^2+b$$

가 다음 조건을 만족시킨다.

- (가) 방정식 $f(x)=g(x)$ 는 서로 다른 두 실근 α, β 를 갖는다.
(나) $\beta-\alpha=2$

<보기>에서 옳은 것만을 있는 대로 고른 것은?
(단, a, b 는 상수이다.) [4점]

- < 보 기 >
- ㄱ. $a=1$ 일 때, $b=-\frac{5}{2}$
 ㄴ. $f(\beta)-g(\alpha)\leq g(2a)-f(a)$
 ㄷ. $g(\beta)=f(\alpha)+5a^2+b$ 이면 $b=-16$

#이차함수 $y = ax^2 (a \neq 0)$

- : 포물선 모양
- : $a > 0$ 이면 아래로 볼록, $a < 0$ 이면 위로 볼록
- : $|a|$ 값이 클수록 그래프의 폭이 좁아짐

#이차함수 $y = a(x-p)^2 + q$ (단, a, p, q 는 상수, $a \neq 0$)

- : $y = ax^2$ 의 그래프를 x 축의 방향으로 p 만큼,
 y 축의 방향으로 q 만큼 평행이동한 것
- : 꼭짓점의 좌표 (p, q)
- : 축의 방정식 $x = p$ 에 선대칭

#이차함수 그래프와 최대, 최소

- ① $y = a(x-p)^2 + q$ 꼴로 표현 후
 - ② 꼭짓점을 찾고
 - ③ a 의 부호를 보고 그래프 개형을 그리고
 - ④ 상황에 따라 필요한 점(범위의 경계)을 더 표시해줌
- ※ 꼭짓점의 포함 여부가 중요
- $y = -2x^2 + 8x - 4 (3 \leq x \leq 5)$ 의 최댓값, 최솟값은?

#그래프의 교점과 방정식의 실근

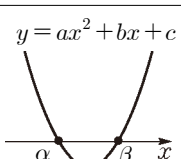
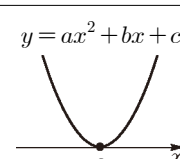
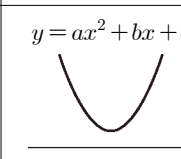
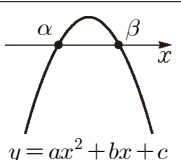
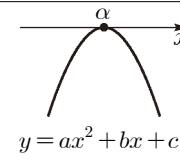
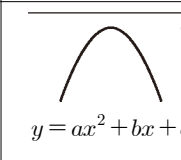
- : $y = f(x), y = g(x)$ 그래프의 교점이 (a, b)
- ⇔ 연립방정식 $\begin{cases} y = f(x) \\ y = g(x) \end{cases}$ 의 실근 $x = a, y = b$
- ⇔ 방정식 $f(x) = g(x)$ 의 실근 $x = a$

#이차함수의 그래프와 x 축

: $y = x^2 - 4x + 3, y = 0$ 그래프의 교점이
 \Leftrightarrow 방정식 $x^2 - 4x + 3 = 0$ 의 실근이

: 위치 관계

$ax^2 + bx + c = 0 (a \neq 0)$ 의 판별식 $D = b^2 - 4ac$

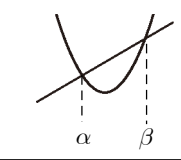
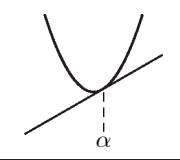
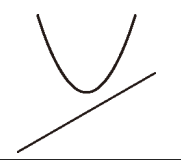
$ax^2 + bx + c = 0$ 의 판별식 D		$D > 0$	$D = 0$	$D < 0$
$ax^2 + bx + c = 0$ 의 해		서로 다른 두 실근 $\alpha, \beta (\alpha < \beta)$	중근 α	서로 다른 두 허근
$y = ax^2 + bx + c$ 의 그래프와 x 축의 교점의 개수 위치 관계		2 서로 다른 두 점에서 만난다.	1 한 점에서 만난다. (접한다.)	0 만나지 않는다.
$y = ax^2 + bx + c$ 의 그래프	$a > 0$			
	$a < 0$			

#이차함수의 그래프와 직선

: $y = x^2 - 3x + 2, y = 2x - 2$ 의 교점이
 \Leftrightarrow 방정식 $x^2 - 3x + 2 = 2x - 2$ 의 실근이

: 위치 관계

$ax^2 + bx + c = mx + n (a \neq 0)$ 의 판별식 $D = b^2 - 4ac$

$ax^2 + bx + c = mx + n$ 의 판별식 D	$D > 0$	$D = 0$	$D < 0$
$ax^2 + bx + c = mx + n$ 의 해	서로 다른 두 실근 $\alpha, \beta (\alpha < \beta)$	중근 α	서로 다른 두 허근
$y = ax^2 + bx + c (a > 0)$ 의 그래프와 직선 $y = mx + n$ 의 위치 관계			
	서로 다른 두 점에서 만난다.	한 점에서 만난다. (접한다.)	만나지 않는다.

20190917

17. 양수 a 에 대하여 $0 \leq x \leq a$ 에서 이차함수

$$f(x) = x^2 - 8x + a + 6$$

의 최솟값이 0이 되도록 하는 모든 a 의 값의 합은? [4점]

20201127

27. 좌표평면에서 직선 $y = t$ 가 두 이차함수 $y = \frac{1}{2}x^2 + 3$,

$$y = -\frac{1}{2}x^2 + x + 5$$

의 그래프와 만날 때, 만나는 서로 다른 점의

개수가 3인 모든 실수 t 의 값의 합을 구하시오. [4점]

20170627

27. 최고차항의 계수가 a ($a > 0$)인 이차함수 $f(x)$ 가 다음 조건을 만족시킨다.

(가) 직선 $y = 4ax - 10$ 과 함수 $y = f(x)$ 의 그래프가 만나는 두 점의 x 좌표는 1과 5이다.

(나) $1 \leq x \leq 5$ 에서 $f(x)$ 의 최솟값은 -8 이다.

$100a$ 의 값을 구하시오. [4점]

#삼차방정식, 사차방정식

- ① 인수분해 : 공식사용 OR 대입하여 0되는 값 찾아 인수정리
- ② $x^4 + ax^2 + b = 0$ 꼴 : $x^2 = X$ 로 치환 OR $A^2 - B^2$ 꼴 변형
- ③ $ax^4 + bx^3 + cx^2 + bx + a = 0$ 꼴 : x^2 으로 나누어 $x + \frac{1}{x} = X$ 치환

#근과 계수의 관계

: $ax^3 + bx^2 + cx + d = 0 (a \neq 0)$ 의 세 근 α, β, γ

$$\alpha + \beta + \gamma = -\frac{b}{a}, \alpha\beta + \beta\gamma + \gamma\alpha = \frac{c}{a}, \alpha\beta\gamma = -\frac{d}{a}$$

$x^2 + x + 1 = 0$ 의 근 w

: $w^2 + w + 1 = 0, w^3 = 1$

: $w + \bar{w} = -1, w\bar{w} = 1$

#연립방정식

- ① (1차&2차) : 1차를 2차에 대입
- ② (2차&2차) : 인수분해되는 식을 인수분해 후 다른 식에 대입

#연립부등식

: $A < B < C$ 꼴은 $\begin{cases} A < B \\ B < C \end{cases}$ 의 꼴로 고쳐서 푼다

#절댓값 기호를 포함한 일차부등식

: 상수 a, b 와 양수 c, d 에 대하여

- ① $|ax + b| < c \Leftrightarrow -c < ax + b < c$
 - ② $|ax + b| > c \Leftrightarrow ax + b < -c$ 또는 $ax + b > c$
 - ③ $c < |ax + b| < d \Leftrightarrow -d < ax + b < -c$ 또는 $c < ax + b < d$
- : $|x - 1| + |x - 3| \leq 4$

#이차부등식

: 그래프에서 y 좌표의 부호에 주목

$ax^2 + bx + c = 0$ 의 판별식 D	$D > 0$	$D = 0$	$D < 0$
$y = ax^2 + bx + c$ 의 그래프			
$ax^2 + bx + c > 0$ 의 해	$x < \alpha$ 또는 $x > \beta$	$x \neq \alpha$ 인 모든 실수	모든 실수
$ax^2 + bx + c < 0$ 의 해	$\alpha < x < \beta$	없다.	없다.
$ax^2 + bx + c \geq 0$ 의 해	$x \leq \alpha$ 또는 $x \geq \beta$	모든 실수	모든 실수
$ax^2 + bx + c \leq 0$ 의 해	$\alpha \leq x \leq \beta$	$x = \alpha$	없다.

20200915

15. x 에 대한 삼차방정식 $x^3 + (k-1)x^2 - k = 0$ 의 한 허근을 z 라 할 때, $z + \bar{z} = -2$ 이다. 실수 k 의 값은?
(단, \bar{z} 는 z 의 켈레복소수이다.) [4점]

20191125

25. x, y 에 대한 연립방정식

$$\begin{cases} x - 2y = 1 \\ 2x - y^2 = 6 \end{cases}$$

의 해가 $x = \alpha, y = \beta$ 일 때, $\alpha + \beta$ 의 값을 구하시오. [3점]

20190914

14. x 에 대한 이차부등식

$$x^2 - (n+5)x + 5n \leq 0$$

을 만족시키는 정수 x 의 개수가 3이 되도록 하는 모든 자연수 n 의 값의 합은? [4점]

20201112

12. x 에 대한 부등식 $|x-7| \leq a+1$ 을 만족시키는 모든 정수 x 의 개수가 9가 되도록 하는 자연수 a 의 값은? [3점]

#좌표평면

: 좌표평면 위의 두 점 $A(x_1, y_1), B(x_2, y_2)$ 에 대하여

- ① 두 점 사이의 거리 $\overline{AB} = \sqrt{(x_2 - x_1)^2 + (y_2 - y_1)^2}$
- ② 선분 AB를 $m : n$ ($m > 0, n > 0$)으로 내분하는 점

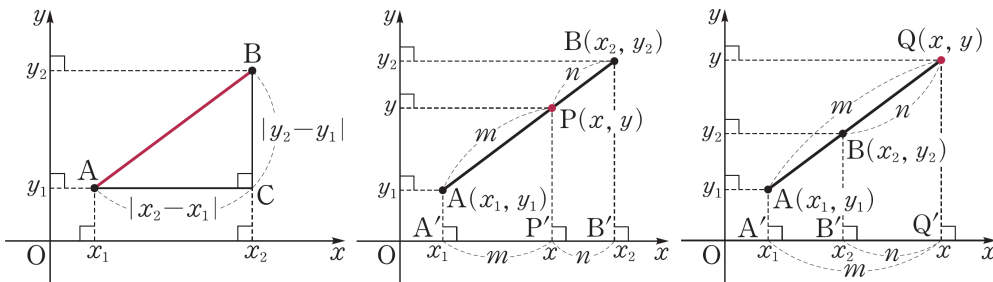
$$\left(\frac{mx_2 + nx_1}{m+n}, \frac{my_2 + ny_1}{m+n} \right)$$

- ③ 선분 AB의 중점 $\left(\frac{x_1 + x_2}{2}, \frac{y_1 + y_2}{2} \right)$
- ④ $A(x_1, y_1), B(x_2, y_2), C(x_3, y_3)$, 삼각형 ABC의 무게중심

$$\left(\frac{x_1 + x_2 + x_3}{3}, \frac{y_1 + y_2 + y_3}{3} \right)$$

- ⑤ 선분 AB를 $m : n$ ($m > 0, n > 0, m \neq n$)으로 외분하는 점

$$\left(\frac{mx_2 - nx_1}{m-n}, \frac{my_2 - ny_1}{m-n} \right)$$



#직선의 방정식 세우기

- ① 기울기 2, (1, 3)지나는 직선
- ② (1, 2), (3, 0)지나는 직선
- ③ 기울기 -1인 직선
- ④ (1, -2)지나는 직선

#두 직선의 평행과 수직

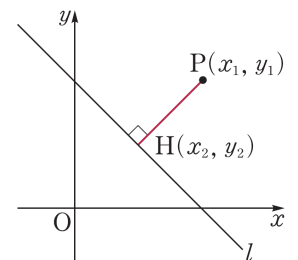
: 두 직선 $y = mx + n, y = m'x + n'$ 에서

- ① 두 직선이 서로 평행 $\Leftrightarrow m = m', n \neq n'$
- ② 두 직선이 서로 수직 $\Leftrightarrow mm' = -1$

#점과 직선 사이의 거리

점 (x_1, y_1) 과 직선 $l: ax + by + c = 0$ 사이의 거리

$$\frac{|ax_1 + by_1 + c|}{\sqrt{a^2 + b^2}}$$



20200929

29. 제1사분면 위의 점 A와 제3사분면 위의 점 B에 대하여 두 점 A, B가 다음 조건을 만족시킨다.

- (가) 두 점 A, B는 직선 $y=x$ 위에 있다.
(나) $\overline{OB}=2\overline{OA}$

점 A에서 y 축에 내린 수선의 발을 H, 점 B에서 x 축에 내린 수선의 발을 L이라 하자. 직선 AL과 직선 BH가 만나는 점을 P, 직선 OP가 직선 LH와 만나는 점을 Q라 하자.

세 점 O, Q, L을 지나는 원의 넓이가 $\frac{81}{2}\pi$ 일 때,

$\overline{OA} \times \overline{OB}$ 의 값을 구하시오. (단, O는 원점이다.) [4점]

20200930

30. 좌표평면 위에 세 점 A(17, 0), B(5, 12), C(5, 5)가 있다.

점 C를 중심으로 하고 반지름의 길이가 r 인 원이 삼각형 OAB와 서로 다른 세 점에서만 만나도록 하는 모든 r 의 값의 곱을 구하시오. (단, O는 원점이다.) [4점]

#원의 방정식

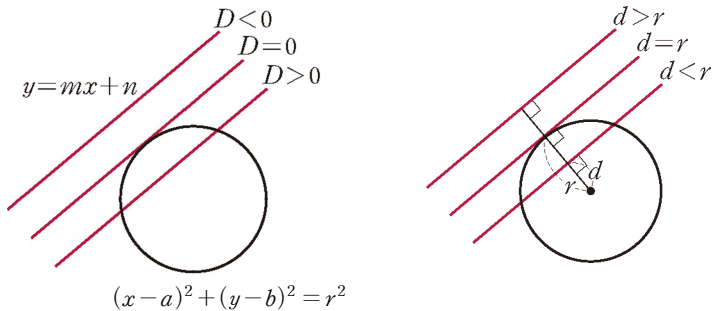
: 중심의 좌표 (a, b) , 반지름의 길이 r

$$(x-a)^2 + (y-b)^2 = r^2$$

→ $x^2 + y^2 - 2x + 4y - 11 = 0$ 의 중심의 좌표, 반지름의 길이?

#원과 직선의 위치 관계

- ① $D > 0 \Leftrightarrow d < r \Leftrightarrow$ 서로 다른 두 점에서 만난다
- ② $D = 0 \Leftrightarrow d = r \Leftrightarrow$ 한 점에서 만난다(접한다)
- ③ $D < 0 \Leftrightarrow d > r \Leftrightarrow$ 만나지 않는다



#원 $x^2 + y^2 = r^2$ 의 접선의 방정식

- ① 기울기가 m 인 접선의 방정식 $y = mx \pm r\sqrt{m^2 + 1}$
 - ② 원 위의 점 (x_1, y_1) 에서의 접선의 방정식 $x_1x + y_1y = r^2$
- 점 $(2, -4)$ 에서 원 $x^2 + y^2 = 2$ 에 그은 접선의 방정식?

20200920

20. 좌표평면 위의 두 점 $A(-1, -9), B(5, 3)$ 에 대하여 $\angle APB = 45^\circ$ 를 만족시키는 점 P 가 있다. 서로 다른 세 점 A, B, P 를 지나는 원의 중심을 C 라 하자. 선분 OC 의 길이를 k 라 할 때, k 의 최솟값은? (단, O 는 원점이다.) [4점]

#평행이동

x 축의 방향으로 a 만큼, y 축의 방향으로 b 만큼 평행이동하면

- ① 점 $P(x, y) \rightarrow P'(x+a, y+b)$
- ② 도형의 방정식 $f(x, y) = 0 \rightarrow f(x-a, y-b) = 0$

#대칭이동

점 (x, y) 를 다음에 대하여 대칭이동하면

- ① x 축 $\rightarrow (x, -y)$ ③ 원점 $\rightarrow (-x, -y)$
- ② y 축 $\rightarrow (-x, y)$ ④ 직선 $y=x \rightarrow (y, x)$

도형의 방정식 $f(x, y) = 0$ 을 다음에 대하여 대칭이동하면

- ① x 축 $\rightarrow f(x, -y) = 0$ ③ 원점 $\rightarrow f(-x, -y) = 0$
- ② y 축 $\rightarrow f(-x, y) = 0$ ④ 직선 $y=x \rightarrow f(y, x) = 0$

Q. $f(x, y) = 0$ 평행이동 후 대칭이동하면?

#점대칭과 선대칭(그래프가 두 개 이상 나오면 관계 확인하기!)

- ① $f(x+p) = f(x) \rightarrow$ 주기 p 인 주기함수
- ② $f(x) = f(x-a) + b \rightarrow$ 반복(?) 함수
- ③ $f(-x) = f(x) \rightarrow$ 우함수(y 축에 대칭인 함수)
- ④ $f(-x) = -f(x) \rightarrow$ 기함수(원점에 대칭인 함수)
 \rightarrow (우함수) \times (우함수)=(우함수), (기함수) \times (기함수)=(우함수)
 (우함수) \times (기함수)=(기함수)
- ⑤ $f(a-x) = f(a+x)$ OR $f(x) = f(2a-x)$
 $\rightarrow x=a$ 에 대칭인 함수
- ⑥ $f(a-x) + f(a+x) = 2b$ OR $f(x) + f(2a-x) = 2b$
 $\rightarrow (a, b)$ 에 대칭인 함수
- ⑦ $y = f(x)$ 를 $y = x$ 에 대칭이동하면 $\rightarrow x = f(y)$
- ⑧ $y = f(x)$ 를 $x = a$ 에 대칭이동하면 $\rightarrow y = f(2a-x)$
- ⑨ $y = f(x)$ 를 (a, b) 에 대칭이동하면 $\rightarrow 2b-y = f(2a-x)$

20200920

13. 원 $(x-6)^2+(y+3)^2=4$ 위의 점 P와 x 축 위의 점 Q가 있다. 점 A(0, -5)에 대하여 $\overline{AQ}+\overline{QP}$ 의 최솟값은? [3점]

Q. $y=f(x)$ 와 $y=g(x)$ 가 $x=k$ 에 대칭이다.
→ $y=f(x+a)$ 와 $y=g(x-a)$ 는?

Q. $y=f(x)$ 와 $y=g(x)$ 가 $x=k$ 에 대칭이다.
→ $y=f(x)$ 와 $y=g(x-a)$ 는?

Q. $y=f(x)$ 와 $y=g(x)$ 가 $x=k$ 에 대칭이다.
→ $y=h(f(x))$ 와 $y=h(g(x))$ 는?

Q. $f(x)=2^x$ 와 $g(x)=\log_2 x$ 가 $y=x$ 에 대칭이다.
 $y=f(x)$ 와 $y=-x+k$ 의 교점 (a, b) 이다.
→ $y=g(x)$ 와 $y=-x+k$ 의 교점은?

Q. $y=\sqrt{x-1}$ 위의 점 A, B, $y=x^2+1(x \geq 0)$ 위의 점 C, D 사각형 ABCD는 $\angle A=\angle D$ 인 등변사다리꼴
→ A(2, 1)일 때 D의 좌표는?

Q. $-8 \leq x \leq 0$ 일 때 $f(x) = x(x+6)^2$ 이고
모든 실수 x 에 대하여 $f(x) = f(x-8) + 32$
직선 $y = ax + b$ 가 $y = f(x)$ 와 무수히 많은 점에서 접한다
→ 기울기 a 의 값은?

Q. $f(x) = 3^{-x}$ 와 $g(x) = -\log_3 x$ 가 $y = x$ 에 대칭이다.
 $y = x - 2$ 가 $y = f(x)$, $y = g(x-5) + 1$ 와 만나는 점을 각각
A, B라 하자.
→ \overline{AB} 의 길이는?

#집합

- ① $A \cup (B \cap C) = (A \cup B) \cap (A \cup C)$
- ② $A \cap (B \cup C) = (A \cap B) \cup (A \cap C)$
- ③ $(A \cup B)^C = A^C \cap B^C, (A \cap B)^C = A^C \cup B^C$
- ④ $n(A \cup B) = n(A) + n(B) - n(A \cap B)$
- ⑤ $n(A \cup B \cup C) = n(A) + n(B) + n(C) - n(A \cap B) - n(B \cap C) - n(C \cap A) + n(A \cap B \cap C)$
- ⑥ $A - B = A \cap B^C = A - (A \cap B) = (A \cup B) - B$
- ⑦ $A - B = \emptyset \Leftrightarrow A \subset B$

#자주 쓰는 표현

- ① $\{x | f(x) = 0\}$
- ② $\{x | f(x) = a\}$
- ③ $\{x | f(x) = g(x)\}$
- ④ $\{f(x) | x \in X\}$

#실수의 기본 성질

: a, b 가 실수, n 이 자연수일 때

- ① $a > b \Leftrightarrow a - b > 0$
- ② $a^2 \geq 0, a^2 + b^2 \geq 0$
- ③ $a^2 + b^2 = 0 \Leftrightarrow a = b = 0$
- ④ $|a| + |b| = 0 \Leftrightarrow a = b = 0$
- ⑤ $|a|^2 = a^2, |a||b| = |ab|$
- ⑥ $\sqrt{a^2} = |a|, (\sqrt{a})^2 = a$
- ⑦ $a > b \Leftrightarrow a^3 > b^3 \Leftrightarrow a^{2n-1} > b^{2n-1} \Leftrightarrow a^{\frac{1}{2n-1}} > b^{\frac{1}{2n-1}}$

: a, b 가 양수, n 이 자연수일 때

- ⑧ $a > b \Leftrightarrow a^2 > b^2 \Leftrightarrow a^n > b^n \Leftrightarrow a^{\frac{1}{n}} > b^{\frac{1}{n}}$
- ⑨ $a > b \Leftrightarrow \frac{1}{a} < \frac{1}{b}$

Q. $2^{-\sqrt[3]{2}}, 3^{-1}$ 대소관계는?

#산술평균과 기하평균

$a > 0, b > 0$ 일 때 $\frac{a+b}{2} \geq \sqrt{ab}$ (단, 등호는 $a=b$ 일 때 성립)

#코시-슈바르츠 부등식

a, b, x, y 가 실수일 때 $(a^2 + b^2)(x^2 + y^2) \geq (ax + by)^2$
(단, 등호는 $a:b = x:y$ 일 때 성립)

#여러 가지 증명법

: 귀류법, 대우를 이용한 증명, 수학적 귀납법

Q. $\sqrt{2}$ 는 무리수. $3 + \sqrt{2}$ 는 무리수?

Q. 자연수 n 에 대하여 n^2 이 홀수, n 은 홀수?

Q. $x > 0, y > 0$ 일 때, $(2x + 3y)\left(\frac{2}{x} + \frac{3}{y}\right)$ 의 최솟값은?

Q. $x > 0, y > 0, \frac{1}{x} + \frac{1}{y} = 1$ 일 때, $x + 25y$ 의 최솟값은?

20150627(고2나)

27. 실수 전체의 집합 U 의 두 부분집합 A, B 에 대하여

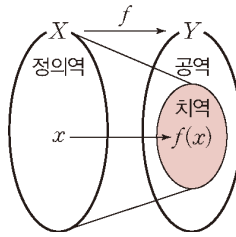
$$n(A) = 5, B = \left\{ \frac{x+a}{2} \mid x \in A \right\}$$

이다. 두 집합 A, B 가 다음 조건을 만족시킬 때, 상수 a 의 값을 구하시오. [4점]

- (가) 집합 A 의 모든 원소의 합은 28이다.
- (나) 집합 $A \cup B$ 의 모든 원소의 합은 49이다.
- (다) $A \cap B = \{10, 13\}$

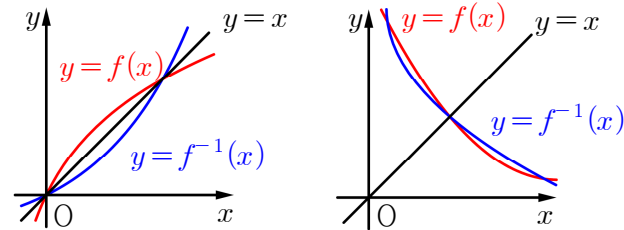
#용어와 성질

- : 치역 $\{f(x) | x \in X\}$
- : 일대일함수 $x_1 \neq x_2$ 이면 $f(x_1) \neq f(x_2)$ 인 함수
- : 일대일대응 치역과 공역이 같은 일대일함수
- : 항등함수 정의역 X 의 모든 x 에 대하여 $f(x) = x$ 인 함수
- : 상수함수 정의역 X 의 모든 x 에 대하여 $f(x) = c$ 인 함수
- : 역함수의 식 x, y 바꾸어 쓴 후 y 에 대하여 정리
- : $(f^{-1} \circ f)(x) = x$ ($x \in X$), $(f \circ f^{-1})(y) = y$ ($y \in Y$)
- : $(f \circ g)^{-1} = g^{-1} \circ f^{-1}$, $(f^{-1})^{-1} = f$
- : 역함수가 존재 \Leftrightarrow 일대일대응
- : 실수 전체에서 연속인 함수가 역함수가 있다면, 증가 OR 감소함수



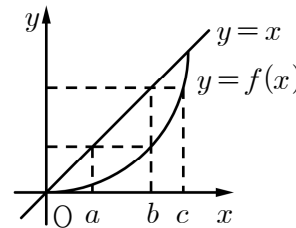
#함수와 그 역함수의 그래프

- : 함수의 그래프와 그 역함수의 그래프는 $y = x$ 에 대하여 대칭
- : 연속일 때 교점의 위치 관찰
- ① 증가함수 ② 감소함수



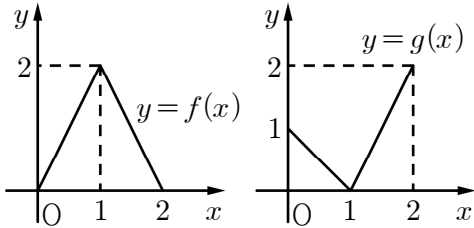
#합성함수의 그래프

- ① $f \circ f(c)$ 의 값은?

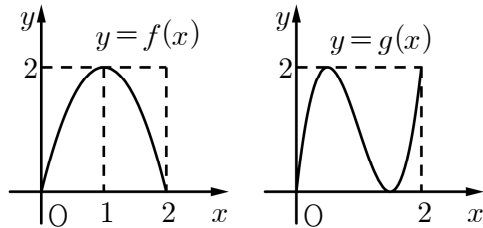


#합성함수의 그래프

② $y = g \circ f(x)$, $y = f \circ g(x)$ 의 그래프를 그리시오.



③ $y = g \circ f(x)$ 의 그래프 개형을 그리시오.



20170620(고2나)

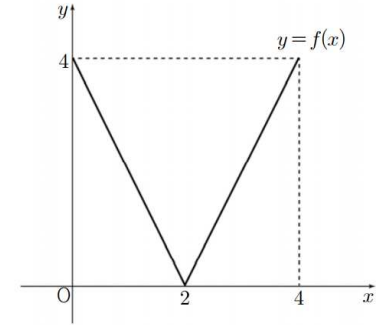
20. 함수

$$f(x) = |2x - 4| \quad (0 \leq x \leq 4)$$

에 대하여 <보기>에서 옳은 것만을 있는 대로 고른 것은?

[4점]

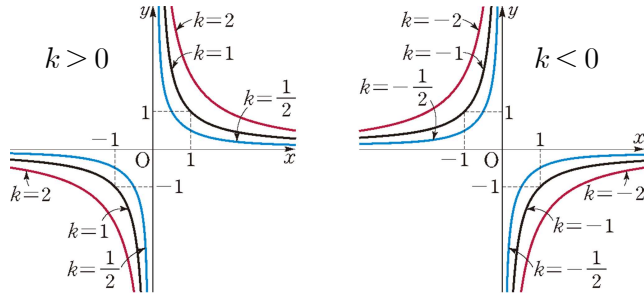
- <보 기>
- ㄱ. $f(f(1)) = 0$
 - ㄴ. 방정식 $f(x) = x$ 의 모든 실근의 개수는 2이다.
 - ㄷ. 방정식 $f(f(x)) = f(x)$ 의 모든 실근의 합은 8이다.



#유리함수 $y = \frac{k}{x}$ ($k \neq 0$)의 그래프

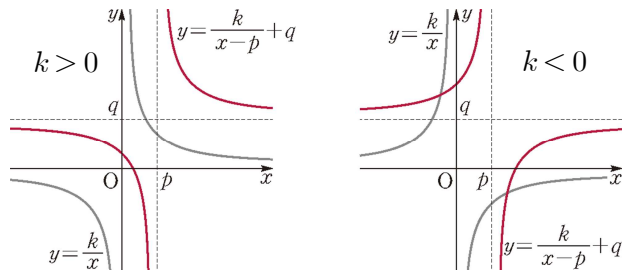
: $k > 0$ 이면 제1, 3사분면, $k < 0$ 이면 제2, 4사분면

: $|k|$ 값이 커질수록 원점에서 멀어짐



#유리함수 $y = \frac{k}{x-p} + q$ ($k \neq 0$)의 그래프

- : 점근선 $x = p, y = q$
- : 정의역은 $x = p$ 를 제외한 실수 전체의 집합
- : 치역은 $y = q$ 를 제외한 실수 전체의 집합
- : 점 (p, q) 에 대하여 **대칭**
- : 직선 $y = \pm(x-p) + q$ 에 대하여 **대칭**



#유리함수 $y = \frac{ax+b}{cx+d}$ ($ad-bc \neq 0, c \neq 0$)의 그래프 그리기

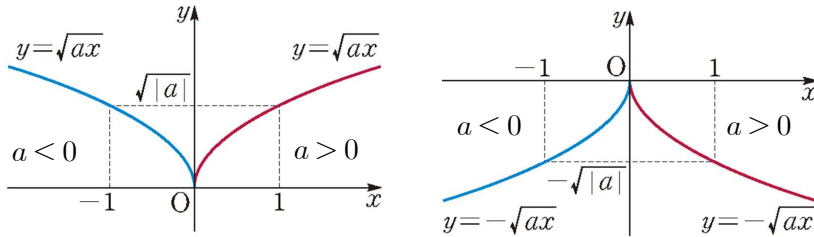
Q. $y = \frac{3x+2}{x-1}$ 의 그래프를 그리시오.

Step1. $y = \frac{k}{x-p} + q$ 꼴로 바꾼다. (Tip 나머지정리)

Step2. 점근선을 표시한다.

Step3. k 의 부호를 보고 그래프를 그린다.

#무리함수 $y = \sqrt{ax}$, $y = -\sqrt{ax}$ ($a \neq 0$)의 그래프



: $y = x^2 + 1 (x \geq 0)$ 는 $y = \sqrt{x-1}$ 의 역함수

#무리함수 $y = \sqrt{ax+b+c}$, $y = -\sqrt{ax+b+c}$ ($a \neq 0$)의 그래프 그리기

Q. $y = -\sqrt{6-2x} + 2$ 의 그래프를 그리시오.

Step1. $y = \pm \sqrt{a(x-p)} + q$ 꼴로 바꾼다.

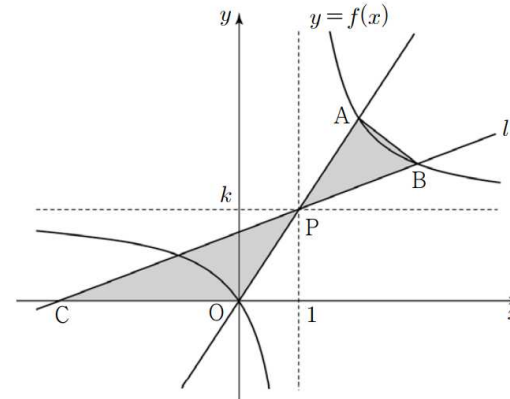
Step2. 점 (p, q) 를 표시한다.

Step3. a 의 부호와 루트 앞의 부호를 보고 그래프를 그린다.

20160930(고2나)

30. 그림과 같이 함수 $f(x) = \frac{k}{x-1} + k$ ($k > 1$)의 그래프가 있다.

점 $P(1, k)$ 에 대하여 직선 OP 와 함수 $y = f(x)$ 의 그래프가 만나는 점 중에서 원점이 아닌 점을 A 라 하자. 점 P 를 지나고 원점으로부터 거리가 1인 직선 l 이 함수 $y = f(x)$ 의 그래프와 제1사분면에서 만나는 점을 B , x 축과 만나는 점을 C 라 하자. 삼각형 PBA 의 넓이를 S_1 , 삼각형 PCO 의 넓이를 S_2 라 할 때, $2S_1 = S_2$ 이다. 상수 k 에 대하여 $10k^2$ 의 값을 구하시오. (단, O 는 원점이고, 직선 l 은 좌표축과 평행하지 않다.) [4점]



#합의 법칙과 곱의 법칙

- : 합의 법칙 중복되지 않게 경우를 나누어 조사 후 더한다.
- : 곱의 법칙 각 경우에 대하여 같은 구조의 상황이다.

Q. 이번 학기에 수강할 수학, 탐구 과목을 선택하는 경우의 수?

수학 과목에 따라 가능한 탐구 과목	
수학	탐구
미적분, 기하	생명과학 I, 지구과학 I
확률과 통계	생활과 윤리, 사회 문화, 한국지리

#순열

: 서로 다른 n 개에서 $r(0 < r \leq n)$ 개를 택하여 일렬로 나열하는 것을 n 개에서 r 개를 택하는 순열이라 하고, 이 순열의 수를 기호로 ${}_n P_r$

$$: {}_n P_r = n(n-1)(n-2) \cdots (n-r+1) = \frac{n!}{(n-r)!} \quad (\text{단, } 0 < r \leq n)$$

$$: {}_n P_n = n!, \quad {}_n P_0 = 1, \quad 0! = 1$$

Q. 서로 다른 5가지 맛의 아이스크림이 있다. 이 중에서 서로 다른 3가지 맛의 아이스크림을 골라 엄마, 아빠, 동생에게 나누어주는 경우의 수

#조합

: 서로 다른 n 개에서 순서를 생각하지 않고 $r(0 < r \leq n)$ 개를 택하는 것을 n 개에서 r 개를 택하는 조합이라 하고, 이 조합의 수를 기호로 ${}_n C_r$

$$: {}_n C_r = \frac{{}_n P_r}{r!} = \frac{n(n-1)(n-2) \cdots (n-r+1)}{r!} = \frac{n!}{r!(n-r)!}$$

(단, $0 \leq r \leq n$)

$$: {}_n C_n = 1, {}_n C_0 = 1, {}_n C_1 = n$$

Q. 서로 다른 5가지 맛의 아이스크림이 있다. 이 중에서 서로 다른 3가지 맛의 아이스크림을 고르는 경우의 수

#성질

$$: {}_n C_r = {}_n C_{n-r} \quad (\text{단, } 0 \leq r \leq n)$$

$$: {}_n C_r = {}_{n-1} C_{r-1} + {}_{n-1} C_r \quad (\text{단, } 1 \leq r < n)$$

$$: {}_n C_r \times {}_r C_k = {}_n C_k \times {}_{n-k} C_{r-k} \quad (\text{단, } 0 \leq k \leq r \leq n)$$

$$: {}_n P_r = n \times {}_{n-1} P_{r-1} \quad (\text{단, } 1 \leq r \leq n)$$

$$: {}_n P_r = {}_{n-1} P_r + r \times {}_{n-1} P_{r-1} \quad (\text{단, } 1 \leq r < n)$$